

Задача №1. Абанский район имеет большие запасы леса лесосырьевые ресурсы составляют 66,1 мил. м³ , из них 43,7 мил. м³ – хвойной природы. Сколько мил.м³ составляют остальные лесосырьевые ресурсы?

Задача №2. Используя таблицу, ответьте на вопросы.

Численность населения					
1959 год	1989 год	2002 год	2008 год	2009 год	2017 год
35479	46512	26783	24793	24793	20226

- 1) В каком году было максимальное количество наибольшее в Абанском районе?
- 2) Сравните 1959 год с 2017 годом, на сколько выросла численность населения?
- 3) В какой период времени не менялась численность населения?
- 4) Укажите наименьшее количество населения?

Задача №3. Абанский район по площади составляет 9512 км². Сколько населённых пунктов включает в себя район?

$$(102,816 : (3,2 * 6,3) + 3,84) * 10 =$$



Задача №4. Решив задания, сопоставьте ответы в порядке возрастания. Узнайте, какое озеро входит в «семь чудес» Абанского района.

Е) $4705+74573=$

В) $23953+7066=$

О) $24300+39021=$

Я) $25433+6464=$

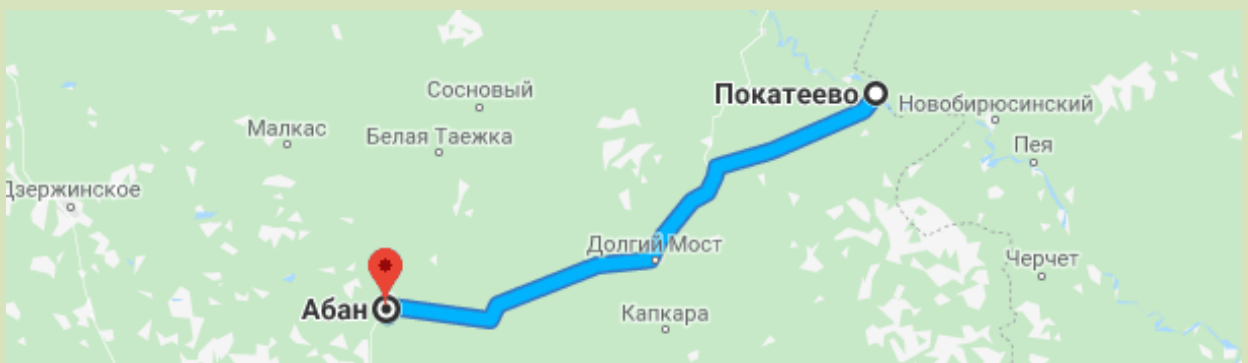
С) $30052-2236=$

Т) $34500-2602=$

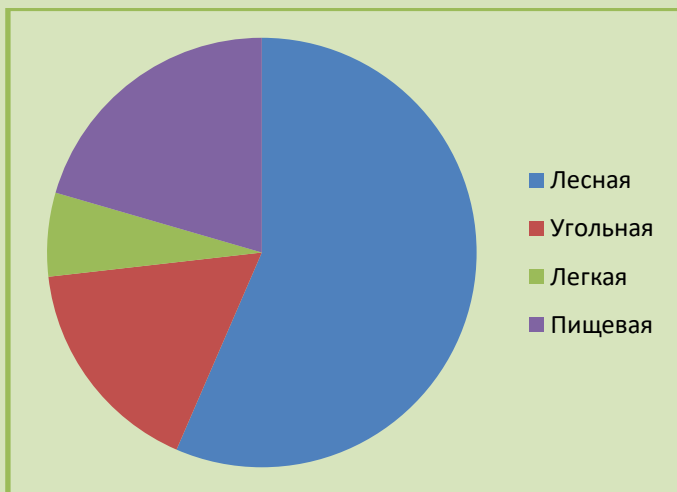
Задача №5. Опираясь на исторические данные Абанского района, мы узнали год образования 1924, было это в апреле месяце. Какого числа был образован район?

$$\frac{(4,4 - 4,15 + 1\frac{7}{15} + \frac{7}{60}) : 3\frac{2}{3}}{(3\frac{1}{2} - 2,75) : 0,2 - 2\frac{1}{2}} \times 10 =$$

Задача №6. Расстояние от села Покатеево до Долгого Моста составляет 52,1 км, а от Долгого Моста до поселка Абана 52,8 км. Какое расстояние составляет путь от с.Покатеево до п.Абан?



Задача №7. На диаграмме показана промышленность района



Определите по диаграмме, какая отрасль преобладает в Абанском районе:

1. Угольная
2. Лесная
3. Пищевая
4. Легкая



Задача №8. Село Устьянск основано в 1641 году, состояло из 449 хозяйств. Уличная сеть села состоит из x улиц. Сколько улиц в селе Устьянск?

$$(x - 8) : \frac{2}{5} = 2$$

Задача №9. В Абанском районе действует 16 муниципальных образований, библиотек на 22 больше, а фельдшерско-акушерских пунктов на 4 меньше чем библиотек. Сколько библиотек и фельдшерско-акушерских пунктов в Абанском районе?



Задача №10 . Поселок Березовка состоит из 19 улиц, это больше чем в деревне Самойловка на 10, но меньше чем Долгий Мост на 6. Сколько улиц в каждой деревне?

Задача №11. По историческим данным в 1929 году в деревне Ново-Успенки проживало 728 человек, а в этом же году в селе Залипье 494 человека. На сколько человек в деревне Ново-Успенке больше чем в селе Залипье?



Задание №12. Кто основал Поселок Абан? Решив, данные задания и сопоставив ответы с буквами, вы ответите на данный вопрос.

ь	$\frac{3}{7} : \frac{9}{14}$
р	$8 : \frac{4}{5}$
б	$\frac{4}{15} : 3\frac{1}{15}$
т	$\frac{8}{11} \times 8\frac{1}{4}$
а	$0,8 \times \frac{1}{5}$
я	$1\frac{2}{9} \times 3$


в	$\frac{5}{6} \times \frac{6}{5}$
о	$0,2 \times 1\frac{2}{3}$
т	$\frac{3}{8} : 3$
ы	$\frac{3}{5} : \frac{9}{25}$
у	$\frac{2}{3} \times \frac{6}{7} \times \frac{7}{4} \times 3$
р	$\frac{13}{14} \times \frac{7}{25}$

$\frac{1}{12}$	10	0,16	6	$\frac{2}{3}$	$3\frac{2}{3}$

$\frac{1}{8}$	3	$\frac{13}{50}$	$\frac{1}{3}$	1	$1\frac{2}{3}$



Поселок Абан. 1960-е гг. Дом культуры



Задание №13. Какое озеро поселка Хиндичет входит в семь чудес Абанского района?

- | | |
|-------------------------------------|-------------------|
| 1) $3\frac{1}{5} - 2$ | о) $1\frac{6}{7}$ |
| 2) $5\frac{3}{7} - 3\frac{4}{7}$ | и) $4\frac{1}{4}$ |
| 3) $2\frac{1}{5} + 1\frac{4}{5}$ | х) $1\frac{1}{5}$ |
| 4) $3\frac{7}{8} + \frac{3}{8}$ | й) 21 |
| 5) $3 + \frac{7}{3}$ | м) 4 |
| 6) $2\frac{1}{2} - 2$ | т) $3\frac{7}{3}$ |
| 7) $13\frac{3}{10} + 7\frac{7}{10}$ | е) $\frac{1}{3}$ |

Задание №14. Абанский район знаменит своими озерами и реками, порешав предложенные задания вы узнаете, какая река является самой длинной в Абанском районе, а какая самая короткая.



Расставьте числа в порядке возрастания и узнайте самую длинную речку в Абанском районе

Б Р А И Ю С
-7,8 0 3,8 -2 0,1 0,15



Расставьте числа в порядке убывания и узнайте самую длинную речку в Абанском районе

А У К Л С О
 $-3\frac{1}{5}$ 30 -3 2,5 3 2,56

